

آموزشگاه: مدرسه پسرانه فدک نور

وزارت آموزش و پرورش

تعداد صفحه: 2

آزمون: مدادکاغذی ریاضی

پایه: دوم

تاریخ: دی ماه

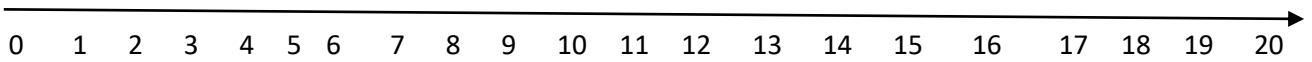
نام و نام خانوادگی:

1 با دو عدد 6 و 4 هرچقدر می توانید عدد دورقمی بنویسید.

.....

2 مسئله ی زیر را با رسم محور انجام دهید.

14 پرنده روی درخت بودند. 6 تاز پرنده ها پریدند . حالا چند پرنده روی درخت مانده است؟



3 حاصل جمع زیر را با رسم شکل به دست بیاورید.

$4+5+6=$

4 حاصل جمع و تفریق های زیر را پیدا کنید .

$90-40 = \square$

$5+5 +30+40=.....$


76

45

- 22

+23

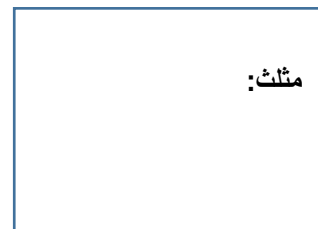
5 با کمک شابلون دو شکل مربع و مثلث را رسم کنید. و هر کدام چند گوشه و چند ضلع دارند؟



مربع:

گوشه:

ضلع:



مثلث:

گوشه:

ضلع:

6 بزرگترین عدد دو رقمی چیست؟.....

کوچکترین عدد سه رقمی چیست؟.....

جواب جمع زیر بصورت تقریبی بنویسید را.

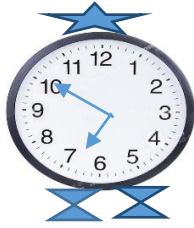
26  $\rightarrow$  .....

+41  $\rightarrow$  + .....

.....

7

زمانی را که ساعت نشان می دهد، به دو صورت بنویسید.



8

ساعت.....و.....دقیقه

.....دقیقه مانده به ساعت.....

الگوی عددی را ادامه دهید.

3 -6- 9- - - - -

9

اگر فاطمه 10 تا سکه 10 ریالی به بانک بدهد بانک باید چند سکه به او بدهد.

10

.....

واحد پول کشور ما .....است.

11

با رقم و حروف بنویسید.

12

سپتی

پانصد و چهل ونه

سی صد و هشتاد و هشت

473

198

موفق باشی عزیزم

طراح سوال: رحمن زاده ، رعدی، علیاری

بازخورد عملکرد دانش آموز

بازخورد				انتظارات معلم	ردیف
ضعف دارد	متوسط	نسبتاً خوب	خیلی خوب	مفهوم عدد و رقم را درک کرده است.	1
				مسئله را با راه حل خواسته شده حل می کند.	2
				جمع و تفریق ها را با روش های مختلف بلد است.	3
				جمع و تفریق فرایندی را حل می کند.	4
				تعداد ضلع و گوشه را در اشکال هندسی تشخیص می دهد.	5
				تقریب را بخوبی فرا گرفته است.	6
				ساعت را به هر دو شکل بلد است.	7
				اعداد را با حروف و رقم می خواند و می نویسد.	8

بازخورد معلم: